



GEOGRAFIJA, 31. 3. 2020 (7.b)

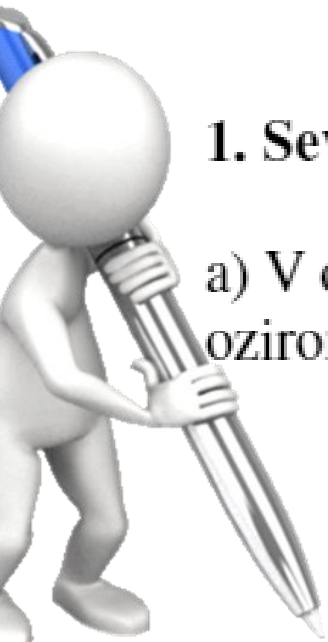
Pozdravljeni učenci. Pa smo že v tretjem tednu x. Upam, da ni tako hudo. V petek 27. 3. ste lahko – ali pa tudi ne, odprli projekcijo za ponovitev Severne Evrope. Ker nam tehnika velikokrat zagode, vam tokrat posredujem ponovitev tudi v PDF zapisu. Če vam je uspelo odpreti že v sredo, se boste danes dolgočasili.

Mega pisalo je napisalo namesto vas odgovore.

Preveri jih.

V primeru vprašanj piši na mail:
joze.racic@guest.arnes.si

PREVERI SVOJE ZNANJE O SEVERNI EVROPI



1. Severno Evropo sestavljajo nordijske in pribaltske države.

a) V oklepaj pred štiri izbrane severnoevropske države napiši črko N, če je ta nordijska, oziroma črko P, če je pribaltska.

(P) Estonija

(N) Norveška

(P) Latvija

(N) Danska

(N) Švedska

(P) Litva

b) Navedi tri posebnosti, ki države Severne Evrope ločujejo od ostalih delov Evrope.

1. **Severna Evropa leži na severu celine.**
2. **Podnebje je ob obali Atlantskega oceana oceansko, sicer pa gorsko, hladno celinsko in na severu subpolarno.**
3. **Nordijske države so gospodarsko zelo razvite in imajo visok življenjski standard.**

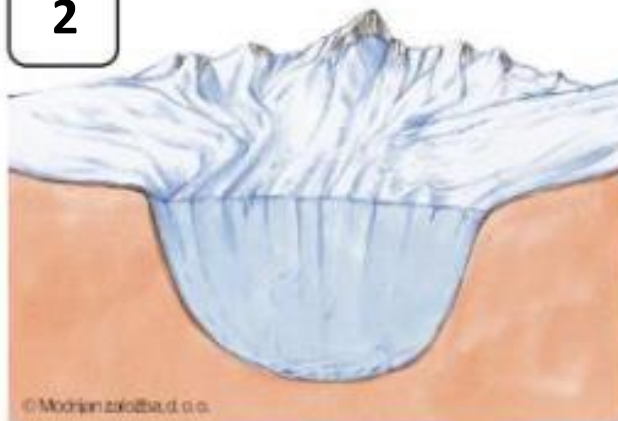
2. Na površju Severne Evrope se kažejo močne posledice ledeniškega preoblikovanja.

a) Faze nastanka fjorda razvrsti od najstarejše do najmlajše tako, da v kvadratke na posameznih slikah napišeš številke od 1 do 4. Številka 1 pomeni najstarejšo fazo, številka 2 nekoliko mlajšo fazo, številka 4 pa najmlajšo fazo.

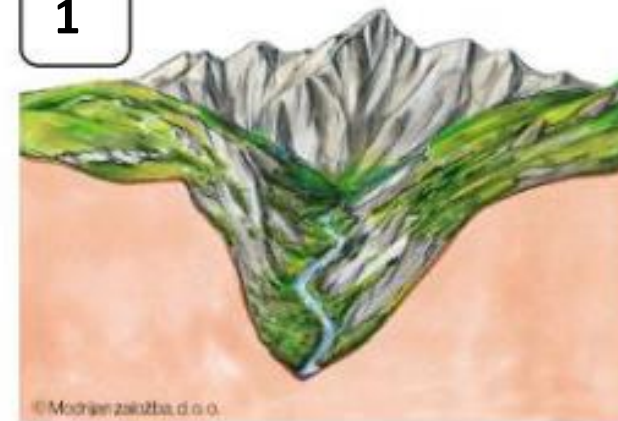
3



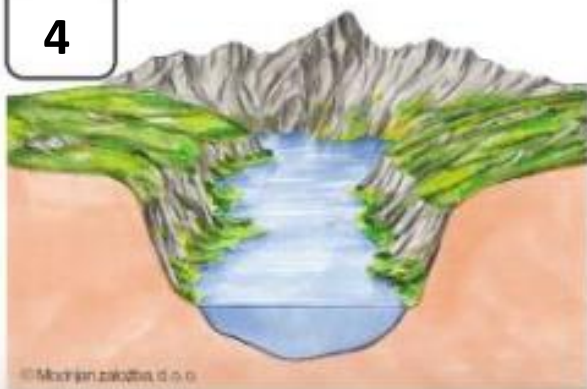
2



1



4



b) Za katero državo Severne Evrope so značilni fjordi?

Norveško, Islandijo

c) Fjordi so za promet ovira, lahko pa tudi prednost. Zapiši, v katerem primeru so ovira, v katerem pa prednost.

1. Ovira: Daljša kopna pot okoli zaliva, draga gradnja mostov in tunelov pod zalivom

2. Prednost:

Morska plovba daleč v notranjost.



3. Islandija je nemirno ozemlje s številnimi potresi in delujočimi vulkani.

a) Oglej si sliko in odgovori na vprašanja.

1. Kateri naravni pojav prikazuje slika?

gejzir

2. Pojasni, zakaj prihaja do tovrstnih pojavov.

Zato, ker se voda pri pronicanju v

notranjost ob stiku z magmo

močno segreje in si poišče pot na

površje.



b) Navedi dva primera, kako so Islandci nenavadne procese v zemeljski notranjosti obrnili v svojo korist.

1. Segrevanje stanovanj in rastlinjakov.

2. Pridobivanje električne energije (geotermalne elektrarne)

4. Hladno podnebje Severne Evrope vpliva tudi na rastlinstvo.

Rastlinske tipe poveži z njihovo lego in posebnostmi tako, da v oklepaj pred rastlinski tip v levem stolpcu pripišeš po eno izbrano črko in številko izpred navedb v preostalih stolpcih.

(Č , 2) tundra

(A , 4) iglasti gozd

(B , 3) mešani, listnati gozd

A večji del Švedske in Finske

B jug Skandinavije

C Kazahstan

Č skrajni sever Skandinavije

1 črede jakov

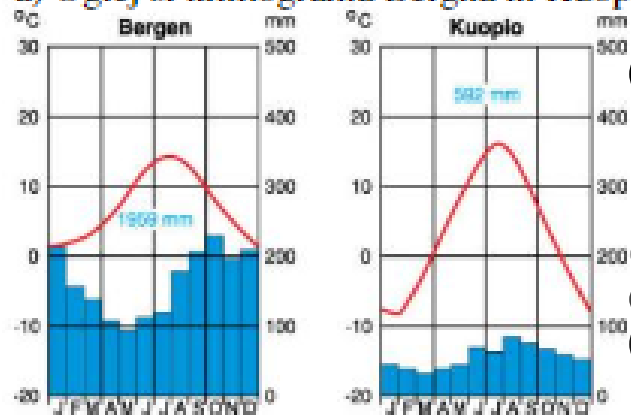
2 črede severnih jelenov

3 naravno rastlinstvo prekinjajo obdelovalne površine

4 prevlada borov in smrek

5. Podnebji obal in notranjosti Severne Evrope se precej razlikujeta.

a) Oglej si klimograma Bergna in Kuopio ter obkroži pravilne trditve.



- A Bergen prejme več padavin kot Kuopio.
- B Kuopio ima manjšo temperaturno razliko med najtoplejšim in najhladnejšim mesecem kot Bergen.
- C Kuopio je hladnejši od Bergna.
- C Bergen ima milejšo zimo kot Kuopio.
- D Kuopio ima hladnejše podnebje kot Bergen.

b) Pojasni, zakaj ima Bergen milejše zime in poletja kot Kuopio. _____

**Ker leži ob obali Atlantika in ga segreva
severnoatlantski morski tok.**

6. Severna Evropa je gospodarsko zelo razvita.

a) Oglej si sliko in odgovori na vprašanja.

1. Katera država Severne Evrope ima skoraj idealne razmere za izkoriščanje vodne energije?

Norveška

2. S pomočjo slike navedi dva razloga, zakaj ima država iz naloge a tako dobre razmere za izkoriščanje vodne energije.

Prvi razlog:

Velike količine padavin

Drugi razlog:

Strma pobočja, gorato površje

© Morski svet, d.o.o.



b) Gospodarski dejavnosti pripiši po eno državo Severne Evrope, v kateri ta prevladuje ali pa je zelo pomembna.

1. Gozdarstvo Finska 2. Kmetijstvo: Danska
3. Črpanje nafte: Norveška

■ Še nekaj pomembnejših pojmov.

a) Podčrtaj pojme, ki so povezani s Severno Evropo.

fjell makija polarna noč Nordkapp Porurje

b) Podčrtane pojme razloži na spodnje črte.

1. Fjell – planota, ki jo je pobrusil ledenik

2. Polarna noč – pojav, ko sonce ne vzide 6 mesecev (severno od severnega tečajnika)

3. Nordkapp – severna točka Evrope
