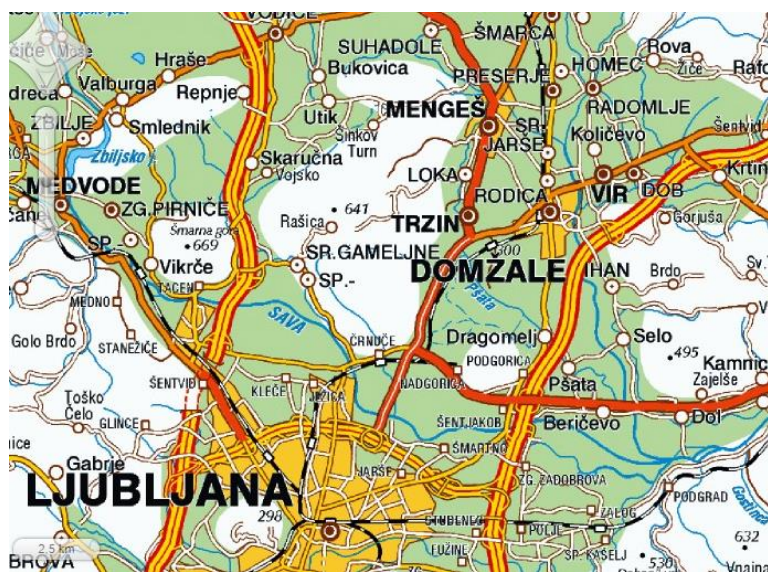
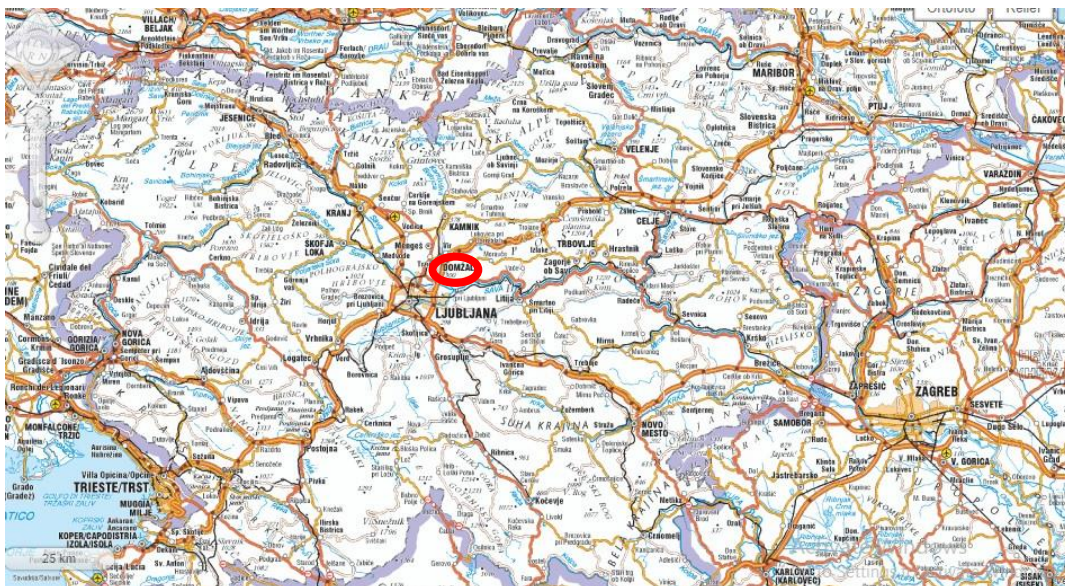


1. Ker zdaj že zelo dobro poznate Domžale z okolico, **razmislite**, kako bi nekomu, ki živi recimo v Kopru, **razložili, kje ležijo Domžale?** Hmmm....

Mogoče si lahko pomagata z odgovori na ta vprašanja:

- Katero veliko mesto je v bližini? V kateri smeri?
- Katera reka teče mimo Domžal?
- Katera večja cesta gre tod mimo? Kam nas vodi?
- Ležijo Domžale na vrhu hriba ali na ravnini?
- Ležijo na osojni ali prisojni legi?

2. Če niste znali odgovoriti na vsa vprašanja, si pogledajte še spodnja zemljevida. Morda vam bosta v pomoč.



3. Natančno preberite učbenik, str. 54 in 55. Dobro si oglejte tudi sliko v učbeniku.

4. Prebrali ste:

Legu kraja opisujemo z imenovanjem pokrajine, bližnjih večjih krajev, z opisom površja in voda, z vrsto in smerjo prometnic (cest).

Glede na površje lahko kraj leži na: ravnini, vzpetini, [v kotlini](#), [dolini](#), ob reki, jezeru ... (Če ne veš, kaj posamezen pojem pomeni, klikni nanj in dobil boš razlago.)

Večinoma kraji ležijo na **nižjih področjih**: na ravnini, v dolini ali kotlini.

Če ležijo na pobočju, so večinoma na **prisojni legi**, ki je večji del dneva obrnjena proti soncu.

Kraji pogosto ležijo **ob prometnicah ali železnici**.

Če ležijo **ob reki**, lahko določimo ali so na levem ali na desnem bregu. To storimo tako, da pogled usmerimo v smeri toka reke.

5. Kje torej ležijo Domžale?

- Domžale ležijo na ravnini na Mengeško-Domžalskem polju, v vzhodnem delu Ljubljanske kotline.



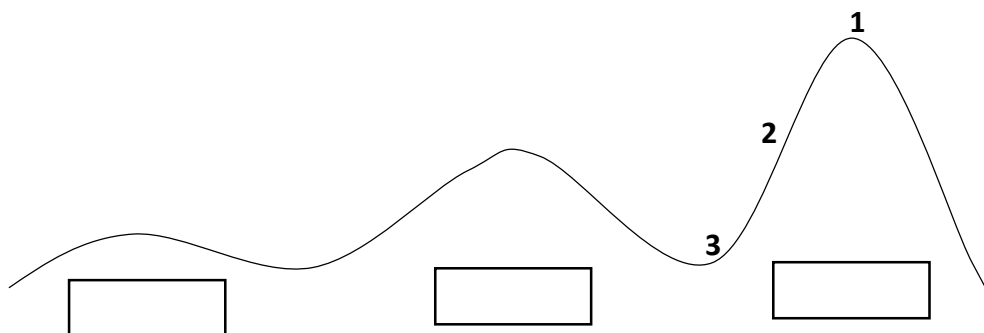
Ljubljanska kotlina

- Ležijo v bližini glavnega mesta Ljubljana.
- Ležijo ob reki, na desnem bregu Kamniške Bistrice.
- Mimo pelje avtocesta Ljubljana–Maribor in železnica Ljubljana–Kamnik.

6. V zvezek za družbo napišite naslov **Opis lege domačega kraja Domžale** in **prepišite** oziroma **prerišite** ter s pomočjo učbenika in zgornjega zapisa **rešite** spodnje naloge.

Opis lege domačega kraja Domžale

1. Ustrezno poimenuj vzpetine na sliki. Izbiraj med: GORA, GRIČ in HRIB.



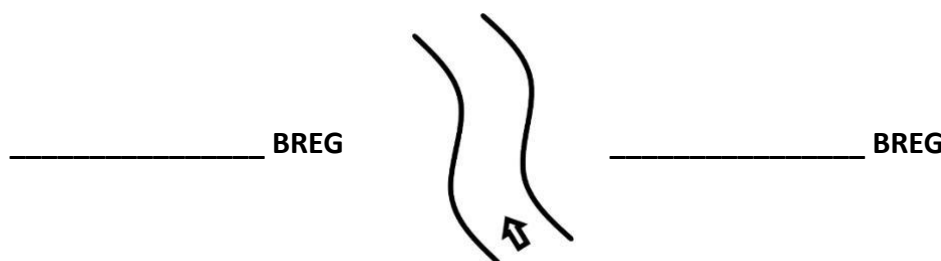
Vsaka vzpetina ima:

1 – vrh

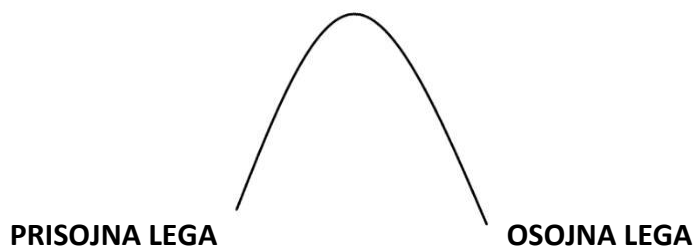
2 – pobočje

3 – vznožje

2. Določi LEVI in DESNI BREG reke.



3. Na ustrezno stran vzpetine nariši sonce.



4. Dopolni besedilo o LEGI DOMŽAL.

Domžale ležijo v osrednjem delu S_____. Nahajajo se na M_____ - D
_____ polju, na V delu Ljubljanske k_____.

Ležijo na _____ bregu reke K_____ B_____.

Mimo pelje a_____ LJ-MB in ž_____ LJ-KA.

Bližnji večji kraj je L_____.