

**Pozdravljene učenke in učenci 7.C.** In zopet bodo počitnice. **Juhuhu**... Ampak kot veste, boste v maju začeli pridobivati ocene. Pri geografiji eno oceno. Lahko boste **izbirali**, kot smo se dogovorili že pri rednem pouku, med oceno iz:



- ✓ **zvezka (izdelek)**, po kriterijih, ki jih imate prilepljene na začetku zvezka,
- ✓ **morebitnega projekta** (po dogovoru)
- ✓ **ustno oceno** (iz snovi pridobljene v času šole na daljavo)

Odloči se za **eno možnost** (od treh) in mi to prosim sporoči na mail: [joze.racic@guest.arnes.si](mailto:joze.racic@guest.arnes.si) **do 4. maja**, da bomo lažje sestavili razpored.

Prejšnji petek, 17. 4. ste se naučili:


- ✓ Poiskati države Vzhodne Azije na zemljevidu
- ✓ Poiskati in primerjati glavne pokrajinske enote Vzhodne Azije
- ✓ Razumeti gostoto poselitve

Z uporabo gradiva ste napisali odgovore na vprašanja:


1. Kje leži Vzhodna Azija? **Na vzhodu celine Azije.**
2. Napiši države Vzhodne Azije (po velikosti) ter njihova glavna mesta.  
**Kitajska (Peking/Beijing), Mongolija (Ulanbator), Japonska (Tokijo), Severna Koreja (Pjongjang), Južna Koreja (Seul), Tajvan (Taipei)**
3. Z uporabo gradiva ali učbenika ali pa atlasa izpiši večje pokrajinske enote.  
**Veliko kitajsko nižavje, Južnokitajsko hribovje, Mandžurija, puščava Gobi, Tibetansko višavje, Himalaja**
4. Pojasni vzroke za različno gostoto poseljenosti teh pokrajin.  
**Najgosteje so poseljene nižine in kotline ter obalna območja zaradi monsunskega podnebja in ravnega površja, redko so poseljena gorska območja.**

Danes si ne zapisuješ v zvezek ampak razmišljaj o potresih (na območju Vzhodne Azije)

Gotovo si znaš odgovoriti na osnovna vprašanja (pomoč slike)



1. Kaj je potres?

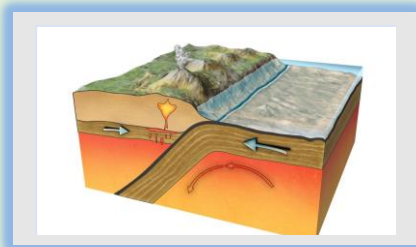


2. Vzroki za potrese?



3. Ena od posledic potresa.

Zate sem pripravil kviz:



Lepe počitnice

