





DATUM:	TOREK, 21. 4. 2020
RAZRED:	1. A
PREDMET:	MATEMATIKA

1. USTNO POVEJ RAČUNE SEŠTEVANJA IN ODŠTEVANJA. SE ŠE SPOMNIŠ, DA JE PRI ODŠTEVANJU REZULTAT TISTO, KAR OSTANE?



2. V 1,2,3 ZVEZEK ZAPIŠI NASLOV VAJA, NATO PA PREPIŠI ŠTEVILA TAKO, KOT PRIKAZUJE SLIKA SPODAJ. NA GLAS PREBERI ŠTEVILA OD 1 DO 15 NAPREJ IN NAZAJ. PREPIŠI RAČUNE IN JIH IZRAČUNAJ.

V A J A

1 5 9 13

2 4 6 8 10 12 14

3 7 11 15

15 11 7 3

14 12 10 8 6 4 2

13 9 5 1

3 + 0 =      • • 4 - 3 =      • • 2 + 7 =

4 + 4 =      • • 5 - 2 =      • • 4 - 0 =

7 + 2 =      • • 10 - 4 =      • • 8 + 1 =

2 + 6 =      • • 8 - 5 =      • • 9 - 5 =

6 + 3 =      • • 10 - 10 =      • • 4 + 6 =