

## MATEMATIKA, torek, 21. 4. 2020

DOBRO JUTRO!

- NAJPREJ KRATKO PREVERJANJE ☺.


USTNO IZRAČUNAJ 5 RAČUNOV NA + TER 5 RAČUNOV NA – DO 10.

**POMEMBNO**- prosim, sporočite, kako je šlo.

SEŠTEVAM IN ODŠTEVAM DO 10 :

- PRAVILNO IN BREZ PRSTOV oziroma VČASIH ŠE MALO POKUKAM NA PRSTE.
- ŠTEJEM PRSTE OZ. SI POMAGAM S PREDMETI.

DOBRO POGLEJ SLIČICE IN POVEJ ALI ZAPIŠI USTREZEN RAČUN.



**POMEMBNO**- prosim, sporočite, kako je šlo ☺


	DRŽI	DELNO DRŽI	NE DRŽI
PRAVILNO UGOTOVIM ALI K SLIČICI »SPADA« SEŠTEVANJE ALI ODŠTEVANJE.			
RAČUN PRAVILNO NAPIŠEM.			
RAČUN PRAVILNO REŠIM.			

DANES SO NA VRSTI ŠTEVILA OD 10 DO 15

- NA MIZO POLOŽI 10 BARVIC IN JIH POVEŽI Z ELASTIKO (VRVICO).  
KOLIKO BARVIC JE V SNOPIČU? 10




SNOPIČU DODAJ 1 BARVICO. KOLIKO JE VSEH BARVIC?




$10 + 1 = 11$  ENAJAST

SNOPIČU DODAJ 2 BARVICI. KOLIKO JE VSEH BARVIC?




$10 + 2 = 12$  DVANAJST

SNOPIČU DODAJ 3 BARVICE.




$10 + 3 = 13$  TRINAJST

SNOPIČU DODAJ 4 BARVICE.



$$10 + 4 = 14 \text{ ŠTIRINAJST}$$

SNOPIČU DODAJ 5 BARVIC.



$$10 + 5 = 15 \text{ PETNAJST}$$

- REŠI NALOGE V DELOVNEM ZVEZKU NA STRANI 74, 75.